



Adı Soyadı :

Numarası :

Konu: Genel Değerlendirme 3



1) Ahmet yukarıdaki paralardan 3 TL'sini harcadı. Ahmet'in kaç TL'si kaldı?

A) 12 B) 15 C) 11


2) Aşağıdaki çıkarma işlemlerinden hangisinin sonucu farklıdır?

A)
$$\begin{array}{r} 14 \\ - 5 \\ \hline \end{array}$$

 B)
$$\begin{array}{r} 12 \\ - 3 \\ \hline \end{array}$$

 C)
$$\begin{array}{r} 16 \\ - 8 \\ \hline \end{array}$$

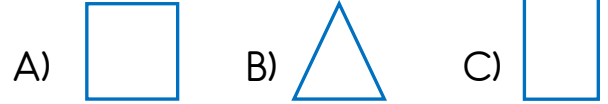
3) Aşağıdakilerden hangisi sıvı madde değildir?



4) Salonun uzunluğu 17 adımdır. Ömer 12 adım yürüdüğüne göre kaç adım daha yürümelidir?

A) 6 B) 8 C) 5

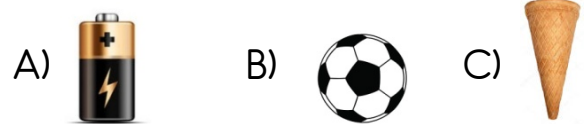
5) İki uzun ve iki kısa kenarı olan geometrik şekil aşağıdakilerden hangisidir?



6) Aşağıdaki toplama işlemlerinden hangisi yanlıştır?

A)
$$\begin{array}{r} 13 \\ + 6 \\ \hline 19 \end{array}$$
 B)
$$\begin{array}{r} 12 \\ + 6 \\ \hline 18 \end{array}$$
 C)
$$\begin{array}{r} 13 \\ + 4 \\ \hline 19 \end{array}$$

7) Aşağıdaki nesnelerden hangisi silindire benzemektedir?



8) Yukarıdaki kabaklar kaç yarım kabak yapar?

A) 6 B) 8 C) 10

9) Çiftlikteki kümeste 6 tavuk, 5 horoz, 8 hindi var. Kümesteki toplam hayvan sayısı kaç tanedir?

A) 19 B) 15 C) 18

10) Aşağıdaki işlemlerden hangisinin sonucu en küçüktür?


A) $9 - 0 =$ B) $12 - 3 =$ C) $14 - 6$

11)

6	8	10	12	...	16
---	---	----	----	-----	----

Yukarıdaki sayı örüntüsünde noktalı yere hangi sayı gelmelidir?

A) 18 B) 14 C) 20



Gözlüğün fiyatı çalar şapkada 7 TL daha pahalıdır. Gözlüğün fiyatı kaç TL'dir?

A) 16 ₺ B) 20 ₺ C) 18 ₺

EYLÜL

Pts	Sa	Çar	Per	Cum	Cts	Paz
					<u>1</u>	<u>2</u>
3	4	5	6	7	<u>8</u>	<u>9</u>
10	11	12	13	14	<u>15</u>	<u>16</u>
17	18	19	20	21	<u>22</u>	<u>23</u>
24	25	26	27	28	<u>29</u>	<u>30</u>

Aşağıdaki soruları tabloya göre cevaplayınız.

13) Eylül ayının ilk günü hangi gündür?

A) Salı B) Pazar C) Cumartesi

14) Eylül ayının 20. Günü Özlem' in doğum günüdür. Özlem doğum gününü hangi gün kutlayacaktır?

A) Pazartesi B) Perşembe C) Cuma

15) Eylül ayı kaç gündür?

A) Otuz

B) Yirmi sekiz

C) Yirmi Dokuz

16) Nisan ayının en son günü hangi gündür?

A) pazar

B) cuma

C) salı